

TESTLAR TO'PLAMI

IDC



**YOSH
IQTIDOR**

EGALARI UCHUN

**PREZIDENT, AL-XORAZMIY VA IXTISOSLASHTIRILGAN
MAKTABLARGA TAYYORGARLIK KO'RAYOTGANLAR UCHUN**

TESTLAR TO'PLAMI

YOSH IQTIDOR EGALARI UCHUN

G'afforov Sardor
Abdullayev Salimxo'ja
Mirzayev Nodir

TESTLAR TO'PLAMI

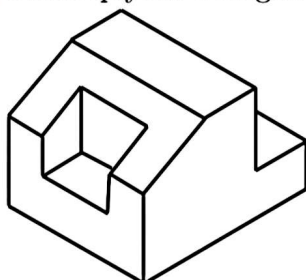
Toshkent-2025

Mundarija:

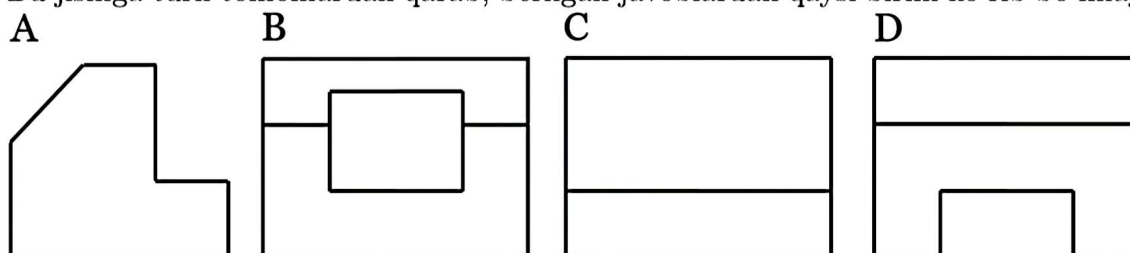
1.	Prezident maktabi 1-test	6
2.	Prezident maktabi 2-test	20
3.	Prezident maktabi 3-test	34
4.	Prezident maktabi 4-test	48
5.	Prezident maktabi 5-test	62
6.	Prezident maktabi 6-test	77
7.	Prezident maktabi 7-test	92
8.	Prezident maktabi 8-test	107
9.	Prezident maktabi 9-test	120
10.	Prezident maktabi 10-test	134
11.	Prezident maktabi 11-test	148
12.	Prezident maktabi 12-test	162
13.	Prezident maktabi 13-test	176
14.	Prezident maktabi 14-test	189
15.	Prezident maktabi 15-test	202
16.	Prezident maktabi 16-test	215
17.	Prezident maktabi 17-test	230
18.	Prezident maktabi 18-test(2022-yil)	244
19.	Prezident maktabi 19-test(2023-yil)	260
20.	Prezident maktabi 20-test(2024-yil)	270
21.	al-Xorazmiy va ixtisoslashtirilgan maktablari 1-test	280
22.	al-Xorazmiy va ixtisoslashtirilgan maktablari 2-test	289
23.	al-Xorazmiy va ixtisoslashtirilgan maktablari 3-test	297
24.	al-Xorazmiy va ixtisoslashtirilgan maktablari 4-test	306
25.	al-Xorazmiy va ixtisoslashtirilgan maktablari 5-test	315
26.	al-Xorazmiy va ixtisoslashtirilgan maktablari 6-test	323
27.	al-Xorazmiy va ixtisoslashtirilgan maktablari 7-test	330
28.	al-Xorazmiy va ixtisoslashtirilgan maktablari 8-test	340
29.	al-Xorazmiy va ixtisoslashtirilgan maktablari 9-test	348
30.	al-Xorazmiy va ixtisoslashtirilgan maktablari 10-test	357
31.	Ingliz tili 1-test	367
32.	Ingliz tili 2-test	374
33.	Ingliz tili 3-test	382
34.	Ingliz tili 4-test	390
35.	Ingliz tili 5-test	397
36.	Ingliz tili 6-test	405
37.	Ingliz tili 7-test	413
38.	Ingliz tili 8-test	421
39.	Ingliz tili 9-test	429
40.	Ingliz tili 10-test	437
41.	Prezident maktablari testlari javoblari	445
42.	al-Xorazmiy va ixtisoslashtirilgan maktablar testlari javoblari	446
43.	Ingliz tili test javoblari	447

1. PREZIDENT MAKTABI 1-TEST

- 24 Alida quyida berilgan jism berilgan.



Bu jismga turli tomonlardan qarab, berilgan javoblardan qaysi birini ko'rib bo'lmaydi?



- 25 Agar men bugun kechasi kech uxlashni rejalashtirgan bo'lsam, ertalab kech uyg'onaman. Agar men kech uyg'onsam, nonushta qilish uchun vaqtim bo'lmaydi. Agar men nonushta qilmasam, tushgacha energiyam tez tugaydi. Agar yuqoridagi fikrlar to'g'ri bo'lsa, quyidagilardan qaysi biri sodir bo'lishi mumkin emas?
- A Men bugun kech uxlashni rejalashtirdim, lekin ertalab vaqtida uyg'onib, nonushta qildim.
- B Men bugun nonushta qilmadim, chunki bugun kechasi kech uxladim.
- C Men bugun erta uyg'onsam-da, tushgacha energiyam yetarli bo'lmadi.
- D Nonushta qilmadim, lekin tushlikkacha ishlarimni tugatdim.
- 26 Professional shaxmat o'yinchisi bo'lish uchun har kuni ko'p vaqtini o'yin strategiyalarini o'rganishga bag'ishlashingiz va o'yindagi xatolaringizni tahlil qilishni qabul qilishingiz kerak.
- Aziz:** "Akmal har kuni strategiya o'rganadi, lekin u o'z xatolaridan saboq olishni istamaydi. Shuning uchun u professional shaxmat o'yinchisi bo'lolmaydi."
- Behruz:** "Agar Laylo professional shaxmat o'yinchisi bo'lsa, u xatolarini sinchkovlik bilan tahlil qiladi va strategiya ustida doimiy ishlaydi."
- Agar yuqoridagi ma'lumotlar to'g'ri bo'lsa, kimning fikri to'g'ri?
- A Faqat Aziz
- B Faqat Behruz
- C Ikkalasiniki ham
- D Ikkalasiniki ham noto'g'ri

2. PREZIDENT MAKTABI 2-TEST

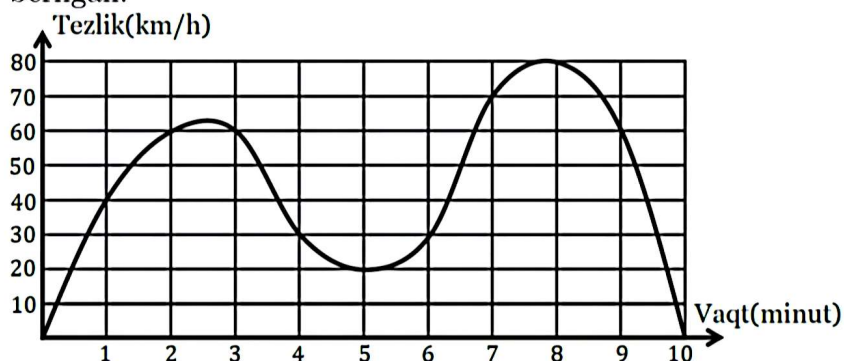
33 Ali hafta davomida o'z malakasini oshirish uchun quyidagi tartibda mashqlarni amalga oshiradi:

- Har beshinchi kuni u sport bilan shug'ullanadi.
- Har oltinchi kuni u kitob o'qiydi.
- Har sakkizinchi kuni u dasturlashni o'rganadi.

Ma'lum bir chorshanba kuni Ali uchchala faoliyat bilan shug'ullangan. Keyingi safar u uchala ishni qaysi kunda bajaradi?

- A Chorshanba
- B Payshanba
- C Dushanba
- D Yakshanba

34 Quyida berilgan grafikda mashinaning 10 minut davomidagi tezligining o'zgarish grafigi berilgan.



Quyida aytilgan ma'lumotlarning qaysilari to'g'ri?

- a) 1- va 2- minut orasidagi tezlik o'zgarishi va 8- va 9-minut orasidagi tezlik o'zgarishiga teng.
 - b) uning teligi 2 minut davomida 70 km/h dan kattaroq bo'lgan.
 - c) 2 minut davomia uning tezligi 30 km/h dan kichik bo'lgan.
- A a va b B b va c C a va c D faqat a

35 Barcha toq raqamlar "X" harfi bilan, juft raqamlar esa qandaydir tartibda A, B, C, D, E kabi kodlandi. Bunda:

102355 soni XBAXXX kabi;

985478 soni XEXCXE kabi;

6544918 esa DXCCXXE Kabi bo'ladi.

648710732 sonini quyidagilardan qaysi biri bo'lishi mumkin?

- A DCEXXBXXB
- B DCEXXCXA
- C DCEXXBXXA
- D DCXBXXBXA

2. PREZIDENT MAKTABI 2-TEST

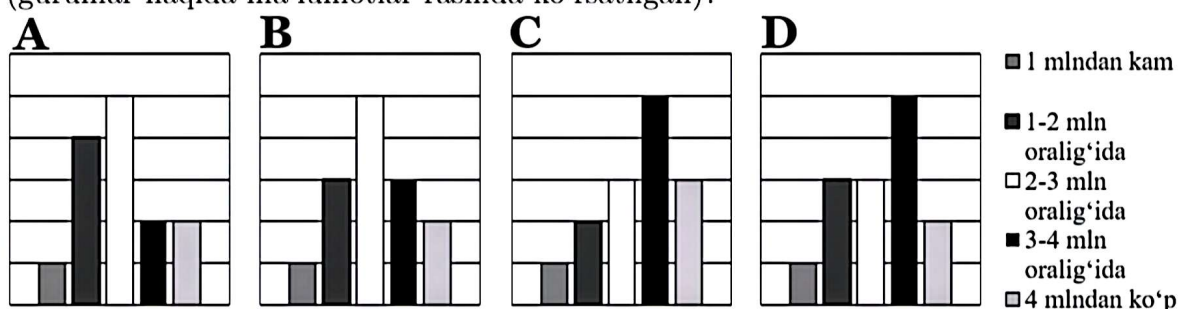
- 36** Avtobus Shahristondan Markaziy stantsiyaga 2 soat ichida borishi mumkin. Tramvay ham shu yo'lining birinchi yarmidan boshlab avtobusdan 2 marta tezroq yuradi, yo'lining qolgan qismida esa avtobus bilan bir xil tezlikda harakatlanadi. Agar avtobus 09:40 da yo'lga chiqqan bo'lsa, tramvay avtobus bilan bir xil vaqtda kelishi uchun qachon yo'lga chiqishi kerak?
- A 10:20
B 09:10
C 10:10
D 10:40
- 37** Bir kafeda yangi kelgan xodim taomnomadan bir taomni belgilashi mumkin. Shunda har tushlik vaqtida o'sha xodim tanlagan taomini bepul olishi mumkin bo'ladi. Har bir xodim tanlovini faqat bir marta amalga oshiradi va bu keyinchalik o'zgartirilmaydi. Kafe menejeri xodimlariga arzon ovqatlarni tanlamaslikni taklif qiladi. Chunki arzon ovqat uchun ko'p pul sarflanmaydi.
- Lola:** "Xodimlar har doim eng qimmat taomni tanlashadi."
Vali: "Bepul tanlangan taomdan keyin, xodimlar boshqa taomlar uchun qo'shimcha to'lov qilishlari shart."
Zokir: "Demak xodimda kunning istalgan vaqtida puli yo'q bo'lsa ham biror bir taomni yeyish uchun imkoniyat bo'lar ekan."
Agar ma'lumotlar to'g'ri bo'lsa, kimning fikri to'g'ri?
- A Faqat Lola
B Faqat Vali
C Faqat Zokir
D Barchasiniki to'g'ri
- 38** Anna, Bella va Clara yugurish musobaqasida eng yaxshi uchlikka kirdilar.
- Anna Belladan tezroq yugurdi.
 - Clara eng tez yuguruvchi emas edi.
- Qaysi tartibda ular birinchi o'rindan oxirgi o'ringacha joylashgan bo'ladi?
- A Anna, Bella, Clara
B Bella, Clara, Anna
C Anna, Clara, Bella
D Ma'lumotlar yetarli emas.

4. PREZIDENT MAKTABI 4-TEST

- 26 Quyida berilgan jadvalda har bir hududagi O'zbekiston aholisi soni ko'rsatilgan (2024-yil 1-iyul holatida).

Hudud:	Aholi soni:
Qoraqalpog'iston Respublikasi	2 022 600
Andijon viloyati	3 394 400
Buxoro viloyati	2 044 000
Jizzax viloyati	1 507 400
Qashqadaryo viloyati	3 560 600
Navoiy viloyati	1 075 300
Namangan viloyati	3 066 100
Samarqand viloyati	4 208 500
Surxondaryo viloyati	2 877 100
Sirdaryo viloyati	914 000
Toshkent viloyati	3 051 800
Farg'ona viloyati	4 061 500
Xorazm viloyati	1 995 600
Toshkent shahri	3 040 800

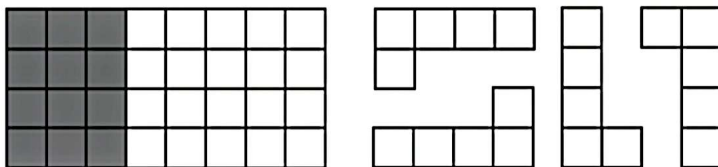
Har bir guruhga tegishli bo'lgan hududlar soni qaysi gistogrammada to'g'ri ko'rsatilgan (guruhlar haqida ma'lumotlar rasmda ko'rsatilgan)?



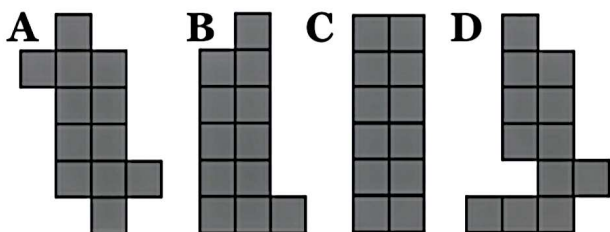
- 27 O'quvchilar imtihonlarga tayyorlanishda ko'pincha uxlaydigan vaqtini qisqartiradilar. Ular bu orqali o'qishga ko'proq vaqt ajratish va imtihon natijalarini yaxshilashni maqsad qiladilar. Quyidagi qaysi gap, agar to'g'ri bo'lsa, yuqoridagi da'voni eng ko'p zaiflashtiradi?
- A Imtihonlarga yaxshi tayyorlangan o'quvchilar ko'proq dam olishni tanlashi mumkin.
- B Ko'plab yaxshi natija ko'rsatgan o'quvchilar erta uxlab, erta uyg'onishadi.
- C Boshlang'ich sinf o'quvchilari imtihonlardan qatnashmasalar ham odatda 9 soat uxlaydilar.
- D Uyqu diqqatni jamlash va ma'lumotlarni eslab qolish uchun muhimdir.

6. PREZIDENT MAKTABI 6-TEST

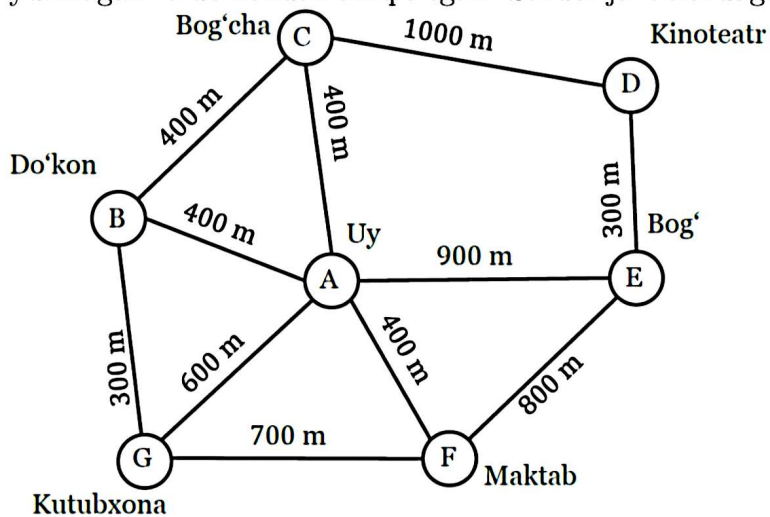
- 25) Quyida berilgan 4x8 o'lchamli to'g'ri to'rtburchak shaklidagi jism 4 ta bir xil oq rangli shakllar va 1 ta 3x4 o'lchamli qora rangli shakldan tashkil topgan.



Javoblarda berilgan qaysi qora rangli shaklga yuqoridagi 4 ta oq shaklni birlashtirsak 4x8 o'lchamli to'g'ri to'rtburchak hosil qilib bo'ladi?



- 26) Sardor uyidan chiqib 3 km yo'l bosib qaytib keldi. U hech bir yo'ldan ikki marta yurmagan va do'kondan aniq o'tgan. Sardor javoblardagi qaysi manzildan aniq o'tmagan?



- Kutubxona
 A Bog'cha
 B Kinoteatr
 C Maktab
 D Bog'

7. PREZIDENT MAKTABI 7-TEST

33 Bog'dorchilik va zoologiya bo'yicha ba'zi tushunchalar o'xshash. Masalan, "yashil o'simlik" atamasi ikkalasida ham bir xil ma'noni anglatadi.

Bog'dorchilik va ekologiyada bir xil bo'lgan har qanday ma'lumot zoologiyada ham bir xil bo'ladi.

Ekologiya va zoologiya ko'p jihatlarda o'xshashlikka ega, lekin suvga tegishli ma'lumotlarda emas. Suv bilan bog'liq ma'lumotlar har doim farq qiladi.

Sevinch: "Agar ma'lumot bog'dorchilik va ekologiyada bir xil bo'lsa, u suvga tegishli bo'lishi mumkin emas."

Doston: "Agar ma'lumot bog'dorchilik va zoologiyada bir xil bo'lsa, u suvga tegishli bo'lishi mumkin emas."

Agar yuqoridagi ma'lumotlar to'g'ri bo'lsa, qaysi biri to'g'ri fikrda?

- A Faqat Sevinch
- B Faqat Doston
- C Sevinch ham, Doston ham
- D Sevinch ham, Doston ham emas

34 Aziza do'stlariga sovg'a yuborish uchun paketlar tayyorlamoqda. U dizaynini bosib chiqarish uchun bo'sh paketlar sotib olishi kerak. Paketlar uchun turli o'lchamlar va narxlar quyidagi jadvalda ko'rsatilgan:

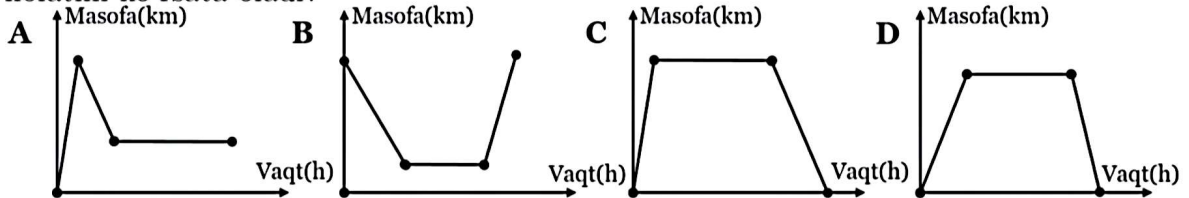
O'lcham	10 talik	20 talik	50 talik	100 talik
Kichik	\$5	\$9	\$20	\$35
O'rtacha	\$6	\$10	\$22	\$40
Katta	\$8	\$12	\$25	\$45

Aziza 18 ta kichik va 45 ta o'rta paketga dizaynini bosib chiqarmoqchi.

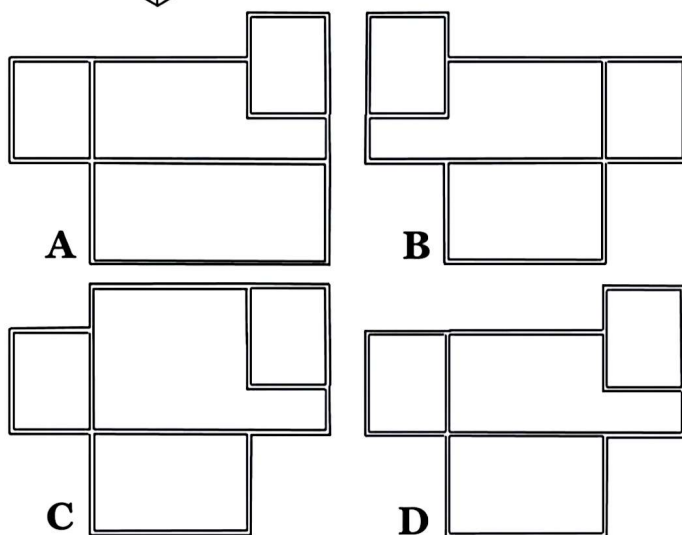
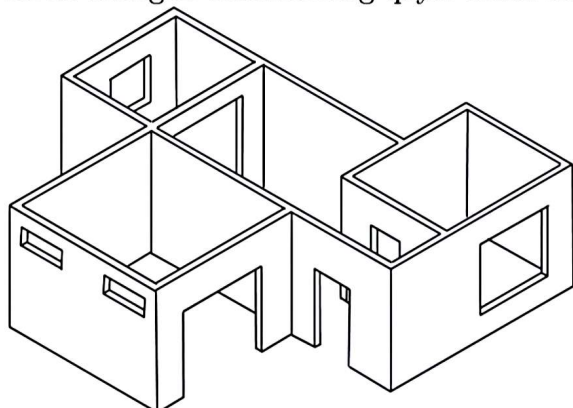
Aziza paketlar uchun to'lashi mumkin bo'lgan eng kam summa qancha?

- A \$31
- B \$35
- C \$40
- D \$45

35 Nozim uyidan 15 km uzoqlikdagi universitetda o'qiydi. Nozim borishda taksida 60 km/h tezlik bilan boradi. Qaytishda esa avtobusda taksidan 2 marta sekin tezlik bilan keladi. Kecha Nozim 4 soat universitetda o'qigan bo'lsa, javoblardagi qaysi grafik uning universitetga borib-kelgungacha bo'lgan vaqtda uyidan qancha uzoqlikda bo'lgan holatini ko'rsata oladi?



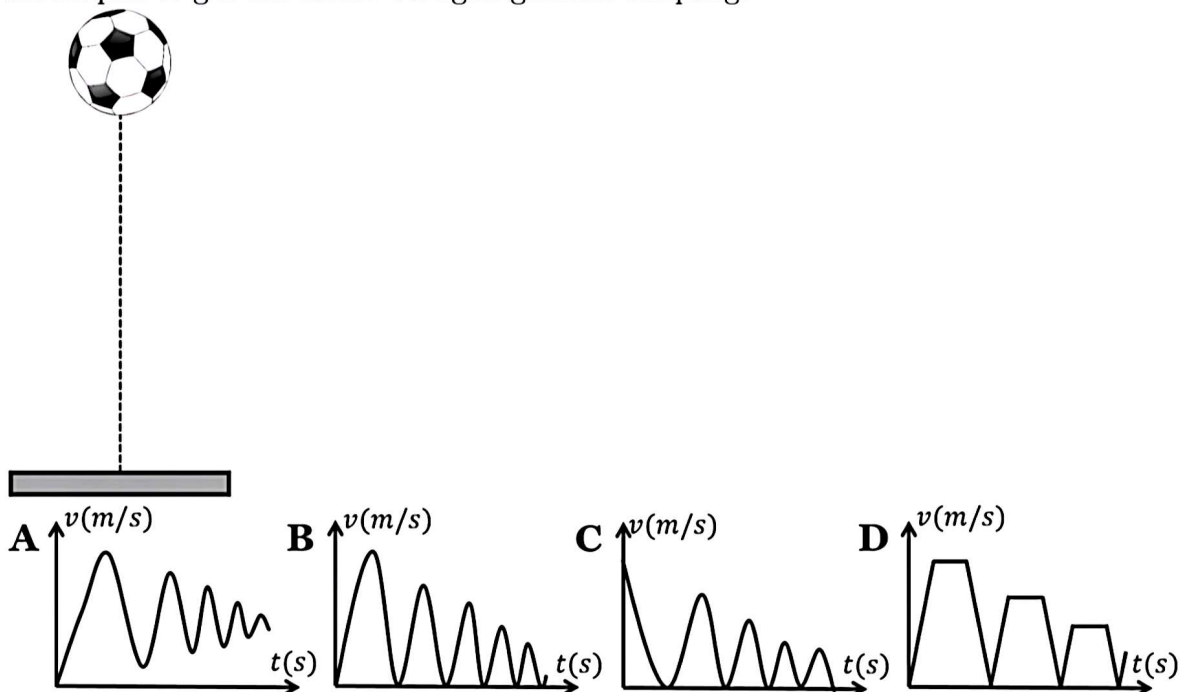
- 37 Quyidagi rasmda uyning maketi berilgan. Bu maketga yuqoridan qaraganimizda javoblarda berilgan shakllarning qaysi birini ko'rish mumkin?



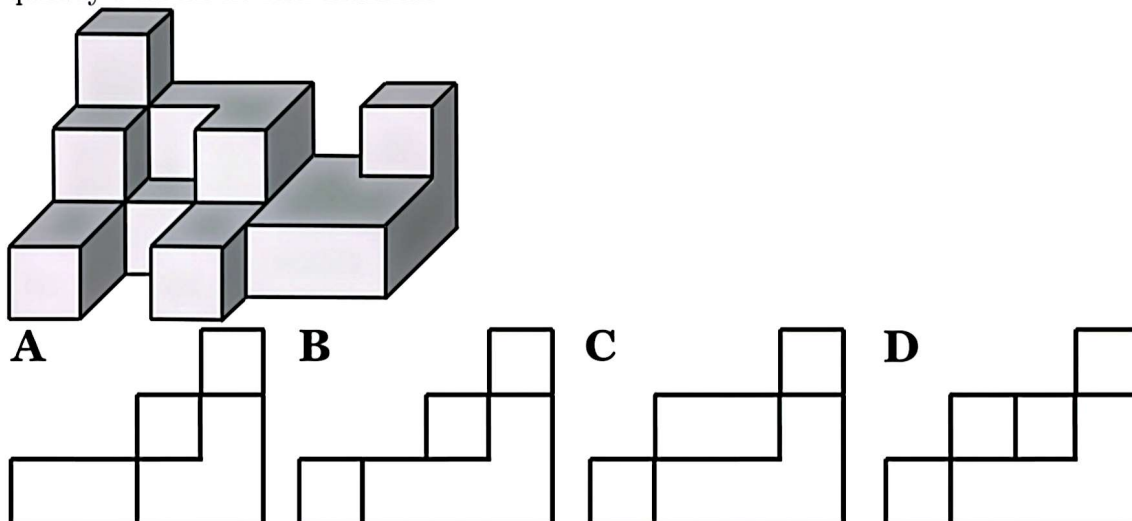
- 38 Sinf o'quvchilari tushlikda qanday taom yeyish haqida ovoz berishdi. Oshpaz ularga uch xil taom taklif qildi: pitsa, lavash yoki burger. Har bir o'quvchi ikkita taomga ovoz beradi. Agar oshpaz taklif qilgan qaysidir taom barcha o'quvchilar tomonidan tanlangan bo'lsa oshpaz shu taomni tayyorlaydi aks holda o'quvchilarga oldindan rejalashtirilgan taom beriladi. Ovoz berish natijasiga ko'ra oshpaz taklif qilgan taomlaridan birini pishiradigan bo'ldi. Quyidagi ma'lumotlarning qaysi biri rost bo'lsa, sinfnig nima taom tanlaganligini aniqlash mumkin bo'ladi?
- A Hech kim pitsa va burgerga birgalikda ovoz bermagan.
 B Sinfdagi har bir o'quvchining eng sevimli taomi pitsa.
 C Lavash taomi eng ko'p ovoz olgan.
 D Pitsa va burgerga ovoz berganlar soni lavash va burgerga ovoz berganlardan ko'p.

10. PREZIDENT MAKTABI 10-TEST

39 Nodir koptogini ma'lum balandlikdan erkin tashlab yubordi. Koptokning tezlik o'zgarishi haqida to'g'ri ma'lumot berilgan grafikni aniqlang.

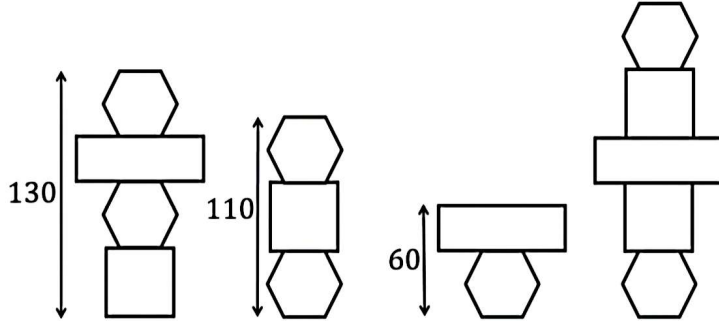


40 Quyida metal jismning 3D ko'rinishi berilgan. Bu jismga o'ng tomondan qaraganimizda qanday shaklni ko'rish mumkin?



18. PREZIDENT MAKTABI 18-TEST(2022-YIL)

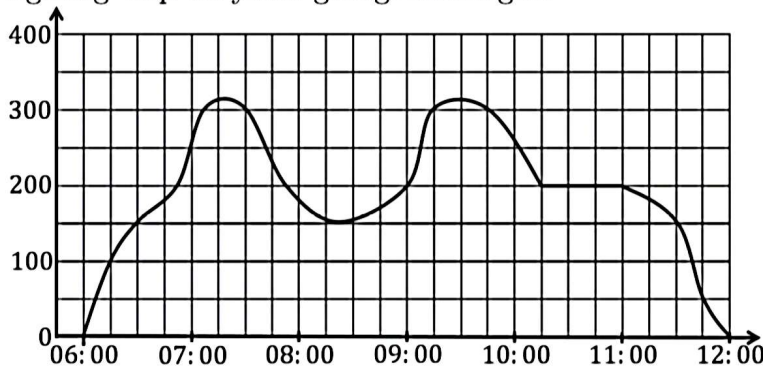
- 18) Quyidagi berilgan shakllar olti burchak, to'g'ri to'rtburchak va kvadratdan yasalgan. Barcha bir xil turdagi shakllar bir xil. Uchta shaklning balandligi ko'rsatilgan.



Oxirgi shaklning balandligi qancha?

- A 130 B 150 C 160 D 180

- 19) Sarvar yakshanba tongda 6 soat tepalikda sayohat qildi. Quyida u ko'tarilgan balandligining vaqt bo'yicha grafigi keltirilgan.



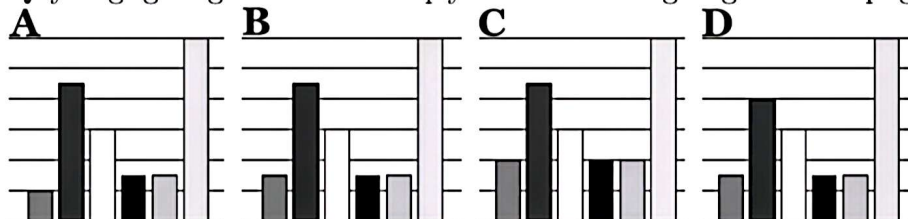
Sarvarning 200 metr va undan yuqorida sarflagan jami vaqtini aniqlang

- A 2 soat B 3 soat C 4 soat D 5 soat

- 20) Quyidagi jadvalda maktab yangi futbolikasi uchun 6 ta rangning ommabopligi bo'yicha so'rovnomada natijalari ko'rsatilgan.

Rang	Ko'k	Yashil	To'q sariq	Siyohrang	Qizil	Sariq
Ovozlar	3	9	6	3	3	12

Quyidagi gistogrammalardan qaysi biri 6 ta rangning ommabopligini ko'rsatadi?



19. PREZIDENT MAKTABI 19-TEST(2023-YIL)

- 16) Universitetdagi A guruhda o'qiydigan 100 ta talabalardan ularning akalari va opalari sonlari haqida so'raldi. Natija quyidagicha bo'ldi:

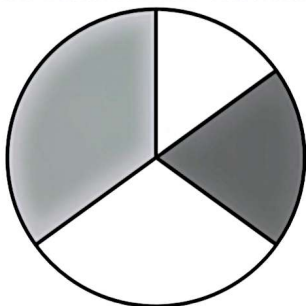
		Akalari soni			
		0	1	2	3
Opalari soni	0	5	8	4	9
	1	6	7	8	10
	2	5	4	9	8
	3	5	3	6	3

Eng kamida 3 ta akasi bor talabalarning jami opalari sonini toping.

- A 44
B 35
C 21
D 30
- 17) 2-guruhda o'qiydigan 4 ta o'quvchilarning fanlar bo'yicha o'zlashtirish ko'rsatkichlari quyidagi jadvalda berilgan.

	Arifmetika	Ingliz tili	MHQ	Tanqid
Mubina	25	38	15	22
Zuxra	20	28	20	32
Adolat	25	14	30	31
Nafisa	30	20	35	15

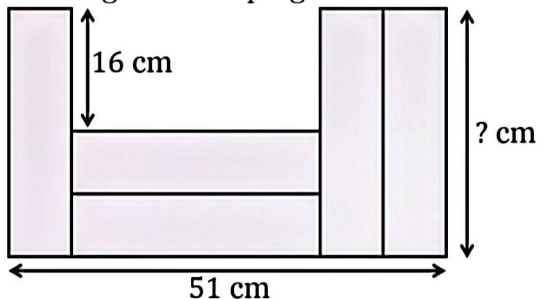
Quyidagi doiraviy diagrammada ushbu 4 ta o'quvchining qaysi fandan o'zlashtirish ko'rsatkichlari tasvirlangan?



- A Arifmetika
B Ingliz tili
C MHQ
D Tanqid

21. AL-XORAZMIY VA IXTISOSLASHTIRILGAN MAKTABLARI 1-TEST

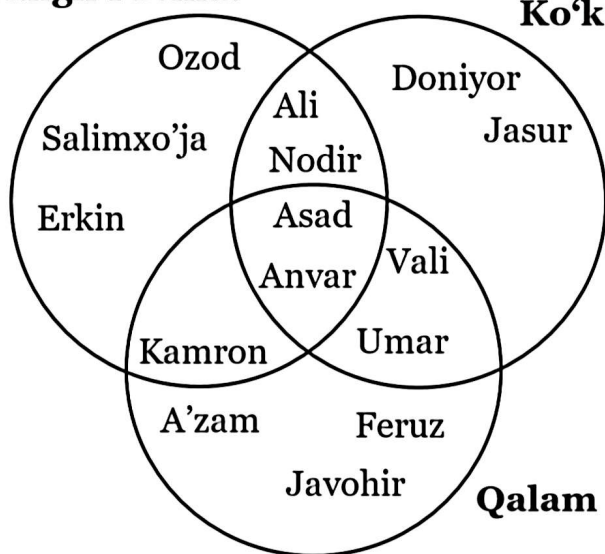
- 23] Quyida berilgan rasmda 5 ta to'g'ri to'rtburchakning o'zaro joylashuvi berilgan. "?" o'rnidagi sonni toping.



- (a) 38 (b) 34 (c) 30 (d) 23
- 24] Javohir 4 ta basketbol o'yinida mos ravishda 12, 15, 12, 13 ochko to'pladi. O'rtacha ko'rsatkichi o'zgarmasligi uchun u beshinchi o'yinda nechta ochko to'plashi kerak?
- (a) 12 (b) 15 (c) 10 (d) 13
- 25] Quyida berilgan diagrammada o'quvchilar imtihonni bajarishda qaysi yozuv quollaridan foydalanganligi haqida ma'lumot berilgan.

Qora rangli ruchka

Ko'k rangli ruchka

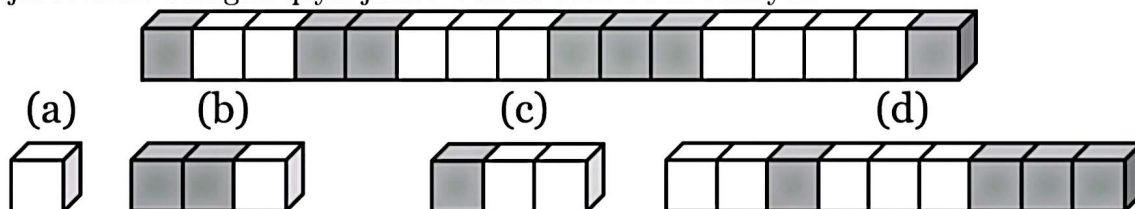


Bu ma'lumotlardan foydalanib quyida berilgan ma'lumotlardan qaysi biri to'g'ri ekanligini aniqlang.

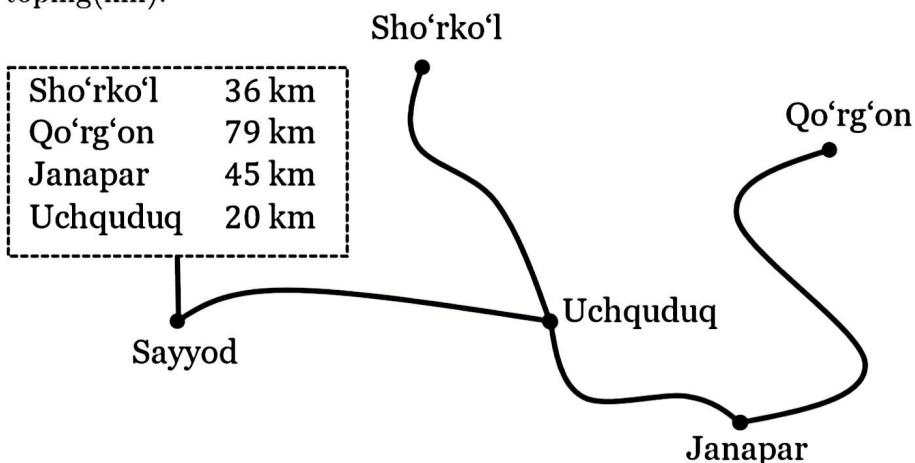
- 1) Uch kishi qora ruchkadan foydalangan.
 - 2) O'quvchilar ruchkadan ko'ra qalamdan ko'proq foydalanishgan.
 - 3) Nodir ham Vali ham qalamdan foydalanmagan.
 - 4) Yetti kishi kamida ikkita yozuv quolidan foydalangan.
- (a) 0 (b) 1 (c) 2 (d) 3

23. AL-XORAZMIY VA IXTISOSLASHTIRILGAN MAKTABLARI 3-TEST

- 11) Quyida berilgan jismni Nodir biri ikkinchisidan 3 marta uzun bo'ladigan qilib, ikki qismga bo'ldi. Shundan so'ng, hosil bo'lgan ikkita bo'lakning har birini ham biri ikkinchisidan 3 marta uzun bo'ladigan qilib, ikkita bo'lakka bo'ldi. Shu holatdan so'ng javoblarda berilgan qaysi jism Nodirda hosil bo'la olmaydi?



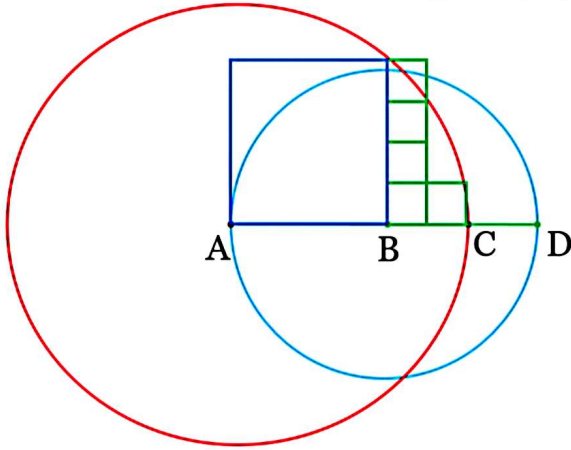
- 12) Quyida berilgan yo'l xartasida Sayyod qishlog'idan boshqa qishloqlargacha bo'lgan masofalar berilgan. Qo'rg'on qishlog'idan Janapar qishlog'igacha bo'lgan masofani toping(km).



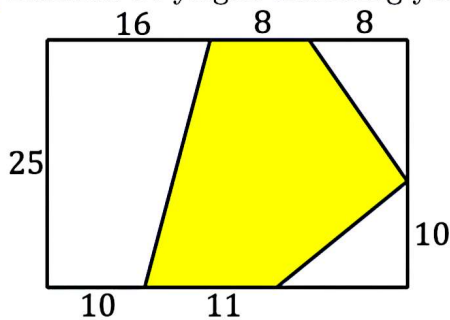
- (a) 34
 (b) 25
 (c) 46
 (d) 43
- 13) Naqshlar qatorida ko'k, qizil, qizil, yashil, sariq va sariq ranglarning takrorlanuvchi naqshlari mavjud. Yashil rangdan keyingi 118-naqshning rangi qanday?
 (a) qizil
 (b) yashil
 (c) ko'k
 (d) sariq

25. AL-XORAZMIY VA IXTISOSLASHTIRILGAN MAKTABLARI 5-TEST

- 6] Markazlari A va B bo'lgan ikki aylana rasmda ko'rsatilganday joylashtirilgan. Shaklda 1 ta katta va 5 ta kichik kvadratlar joylashtirilgan. Agar katta kvadratning perimetri 32 cm bo'lsa, CD kesma uzunligini toping.



- (a) 4 cm
 (b) 8 cm
 (c) 6 cm
 (d) 12 cm
- 7] Quyidagi tengsizlikni qanoatlantiruvchi * belgisi o'rniga qo'yiladigan raqamlarning ko'paytmasini toping: $2847* > 28476$
- (a) 72
 (b) 63
 (c) 504
 (d) 5040
- 8] Rasmda bo'yalgan shaklning yuzini toping.



- (a) 300
 (b) 320
 (c) 360
 (d) 400

28. AL-XORAZMIY VA IXTISOSLASHTIRILGAN MAKTABLARI 8-TEST

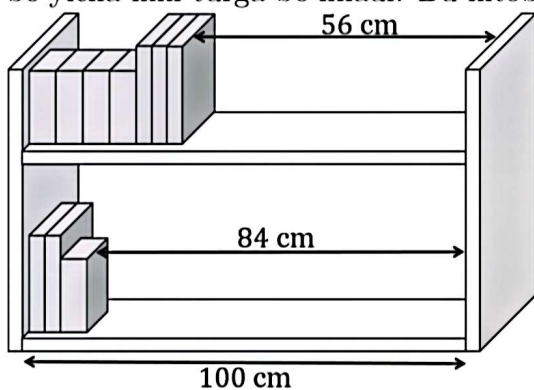
8 Bir sutkaning $\frac{1}{8}$ qismining $\frac{1}{6}$ qismining $\frac{1}{4}$ qismida necha sekund bor?

- (a) 60
(b) 120
(c) 450
(d) 900

9 Qovunning massasi $\frac{51}{4}$ kg, tarvuz qovundan $\frac{11}{2}$ kg ga og'irroq, qovoqning massasi esa tarvuz va qovun massalari yig'indisidan 1 kg ga ortiq. Qovoqning massasi necha kilogramm?

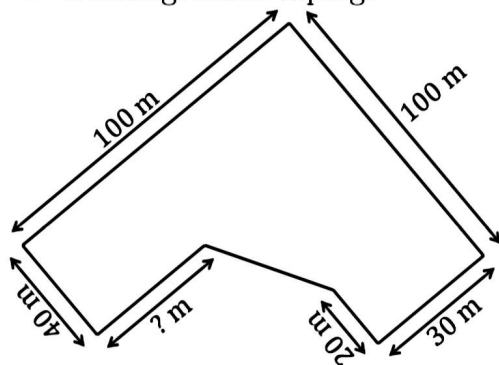
- (a) $\frac{155}{8}$ (b) 21 (c) 32 (d) $\frac{77}{4}$

10 Quyida berilgan rasmda kengligi 100 cm bo'lgan kitob shkafi berilgan. Kitoblar qalinligi bo'yicha ikki turga bo'linadi. Bu kitoblarning qalinliklari orasidagi farqni toping(cm).



- (a) 3 (b) 4 (c) 5 (d) 6

11 Quyida berilgan rasmda Mirzo Ulug'bek ixtisoslashtirilgan maktabining joylashgan o'рни haqida ma'lumot berilgan. Agar bu maydonning yuzi 61 ar 60 m^2 bo'lsa, "?" o'rnidagi sonni toping.



- (a) 50 (b) 56 (c) 60 (d) 52

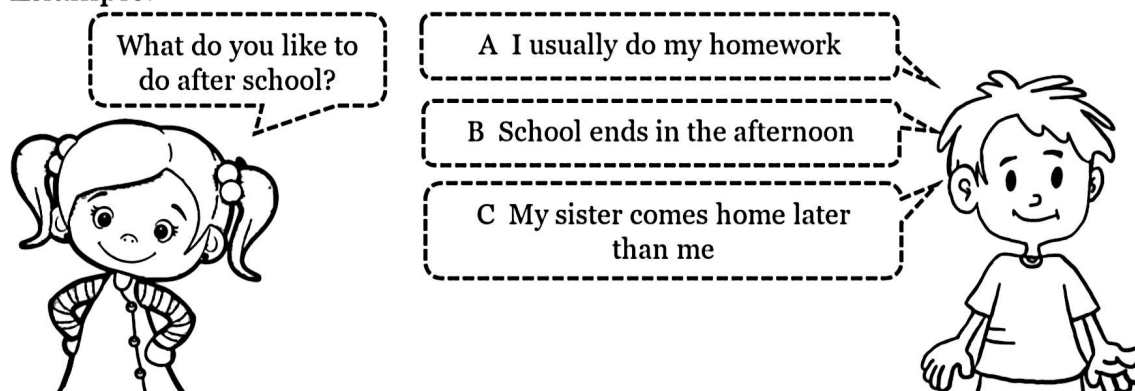
31. INGLIZ TILI 1-TEST

- 9 This is a tool used to drive nails into wood.
A Drill
B Hammer
C Key

- 10 This is a place where books are kept.
A Bakery
B Library
C Gym

Complete the five conversations between Asila and Botir. For questions 11 – 15, mark A, B or C on your answer sheet.

Example:



Answer: A

- 11 "What are you reading these days?"
A I like to read before bed.
B It's a mystery novel.
C I don't really enjoy reading.
- 12 "Did you see the new movie yet?"
A I don't watch movies.
B Yes, I saw it last weekend!
C The cinema is too far away.
- 13 "Where do you want to go this weekend?"
A The beach sounds fun.
B I have to study this weekend.
C School is closed on weekends.

34. Ingliz tili 4-test

Ingliz tili 4-test

*Questions 1-5**Look at the text in each question.**What does it say?**Mark the correct letter A, B or C on your answer sheet.*

Image: A road sign indicating a sharp bend ahead.



- A The road is straight ahead.
- B There is a sharp turn in the road ahead.
- C Speed limits are increasing ahead.

Answer: B**1 Notice:***"Library Books Return Slot - Open 24 Hours."*

What does it say?

- A The library is open 24 hours.
- B You can return books at any time.
- C Books are borrowed here.

2 Sign:*"Please clean your workstation before leaving."*

What does it say?

- A Leave everything on the desk as it is.
- B Ensure your workstation is tidy before you leave.
- C Workstations are cleaned by janitors.

3 Sign:*"Parking for Customers Only - Violators Will Be Towed."*

What does it say?

- A You can park here any time.
- B Only staff can park here.
- C Non-customers risk having their cars towed.

40. INGLIZ TILI 10-TEST

40. Ingliz tili 10-test

Ingliz tili 10-test

Look at the text in questions 1-5.

What does it say?

Mark the correct letter A, B or C on your answer sheet.

Example:

Sign:

Central Library - Quiet Zone: Please speak softly or remain silent.”

What does it say?



A It is allowed to talk loudly in this area.

B Silence is mandatory in this area.

C Visitors should avoid making loud noises here.

Answer: C

1 School Photos on Wednesday!

Wear full uniform—no sports clothes allowed.

A Students can wear sports clothes for photos.

B School uniform must be worn on photo day.

C Students must bring sports clothes for photos.

2 Reminder:

Return permission slips for the trip by Thursday at the latest.

A Thursday is the last day to return forms.

B Permission slips must be handed in after Thursday.

C The school trip is happening on Thursday.

3 Football Field:

Closed until grass repairs complete—no entry.

A Football matches are permitted today.

B Students can't use the field temporarily.

C Field repairs finished today.

41. PREZIDENT MAKTABLARI TESTLARI JAVOBLARI

41. Prezident maktablari testlari javoblari

Prezident maktablari testlari javoblari:

No	1	2	3	4	5	6	7	8	9	10	11	12	13	14	15	16	17	18	19	20
1	D	B	A	C	C	B	B	D	B	D	D	C	A	C	C	D	C	C	C	C
2	D	B	D	C	A	A	B	B	D	B	D	B	A	B	C	C	B	A	C	C
3	C	C	D	C	D	B	C	B	A	B	D	D	D	B	D	A	C	C	B	D
4	B	D	C	D	B	D	C	B	A	B	C	C	D	C	A	C	C	C	C	B
5	B	C	B	C	C	C	C	C	C	C	C	B	B	B	D	D	C	D	D	D
6	A	A	A	B	B	D	D	A	D	B	D	D	C	B	B	D	A	C	C	C
7	C	D	A	A	D	D	D	A	C	C	C	A	B	A	D	D	B	D	C	C
8	A	D	D	A	C	D	C	C	A	B	C	B	B	D	A	A	B	C	B	B
9	D	C	D	D	A	B	B	C	A	C	A	B	B	B	A	C	D	C	A	B
10	A	C	D	B	B	B	C	A	B	A	B	C	D	C	C	D	A	A	D	D
11	C	D	C	D	C	B	D	B	A	C	A	C	C	A	C	C	A	A	C	C
12	B	C	D	C	B	A	C	B	C	B	C	A	B	B	D	B	C	D	C	A
13	B	C	C	D	D	D	B	D	C	D	B	B	B	D	B	D	D	A	A	C
14	A	C	A	C	D	D	B	C	B	C	C	C	A	D	B	D	C	B	A	B
15	A	B	D	B	C	A	B	D	A	B	C	D	D	A	C	B	C	B	B	B
16	D	A	C	A	D	B	A	D	B	C	D	B	B	A	B	C	A	D	B	A
17	C	B	C	C	C	D	B	B	B	C	C	C	D	B	D	B	A	B	C	D
18	D	D	C	C	D	A	D	C	B	B	D	D	A	B	B	B	D	C	A	C
19	A	A	A	C	D	A	D	B	A	A	B	B	D	C	D	C	B	B	B	C
20	C	C	A	B	B	C	C	C	C	C	C	C	D	A	B	B	B	B	A	C
21	B	D	D	D	C	C	B	A	C	C	C	D	B	B	D	B	D	A	A	B
22	B	A	D	B	B	C	A	D	C	D	C	D	C	A	D	A	D	C	C	D
23	A	A	D	C	C	B	C	B	D	A	B	B	C	D	B	D	B	A	B	C
24	D	A	A	C	D	B	D	D	A	B	C	C	B	D	B	C	B	B	D	B
25	A	D	D	A	D	A	B	C	C	C	B	A	A	D	C	D	D	D	A	C
26	C	D	D	D	A	C	D	A	B	A	C	A	B	D	A	B	C	D	D	B
27	A	C	A	D	A	A	D	A	C	B	A	C	B	B	D	D	B	A	C	A
28	A	C	C	D	C	C	B	D	D	C	D	C	A	B	A	C	B	C	D	B
29	D	B	A	D	C	B	B	C	C	B	D	B	C	B	C	B	C	A	B	D
30	D	D	B	C	C	A	A	D	B	B	C	B	B	C	B	B	A	C	A	
31	C	B	D	B	A	D	B	C	B	A	D	A	C	C	A	B	B	B	B	
32	D	A	D	C	A	C	A	B	D	D	C	D	D	A	C	A	A	D		
33	D	B	A	C	B	B	A	B	C	A	A	C	B	B	D	B	C	B		
34	B	D	A	D	C	A	A	A	D	C	A	A	C	B	B	D	D	C		
35	C	C	C	B	A	D	C	D	B	D	B	C	B	D	C	D	C	D		
36	A	C	D	A	D	B	D	A	D	C	C	C	A	A	D	B	B	B		
37	C	B	D	C	B	A	C	B	D	D	D	C	A	D	A	C	B	A		
38	D	D	C	D	A	B	C	B	A	D	A	A	A	C	C	A	D	C		
39	A	A	A	B	D	A	C	D	A	B	C	D	A	C	A	A	B	C		
40	D	C	D	C	B	B	D	B	B	B	B	D	D	A	D	C	C	C		